

سال نو مبارک

مجله‌ی نوروزی ۱۴۰۰

پایه‌ی دوم دبستان

آموزگار: خانم محمد بیگه

دبستان غیردولتی سورنا





هفت سین را در تصاویر بالا مشخص کنید و هفت تایی آن را در زیر بنویسید.



هر ردیف از سکه ها روی هم چند ریال می شود.

	ریال <input style="width: 50px; height: 20px; border: 1px solid black; border-radius: 10px;" type="text"/>
	ریال <input style="width: 50px; height: 20px; border: 1px solid black; border-radius: 10px;" type="text"/>
	ریال <input style="width: 50px; height: 20px; border: 1px solid black; border-radius: 10px;" type="text"/>



داستان سفر قطره ی آب از دریا به ابر و ادامه ی ماجرا را بنویس .




من یک قطره ی آب بودم که با دوستانم در

در حفظ مایه ی حیاتمان بکوشیم.
امروز روز جهانی آب است.



برای هر تصویر یک جمله بنویسید.



A rounded rectangular box containing three horizontal lines for writing a sentence.

A rounded rectangular box containing three horizontal lines for writing a sentence.




A rounded rectangular box containing three horizontal lines for writing a sentence.




با استفاده از تصاویر حیوانات جدول را کامل کنید.

حشرات	پرنده‌گان	دوزیستان	خزندگان



خوردنی‌ها



پوشیدنی‌ها




خواندنی‌ها

$$\begin{array}{r} 71. \\ + 136 \\ \hline \end{array}$$

$$\begin{array}{r} 882 \\ - 128 \\ \hline \end{array}$$

$$\begin{array}{r} 415 \\ + 108 \\ \hline \end{array}$$

$$\begin{array}{r} 905 \\ - 300 \\ \hline \end{array}$$



$$\begin{array}{r} 942 \\ - 306 \\ \hline \end{array}$$

$$\begin{array}{r} 614 \\ + 99 \\ \hline \end{array}$$

$$\begin{array}{r} 630 \\ - 521 \\ \hline \end{array}$$

$$\begin{array}{r} 471 \\ + 339 \\ \hline \end{array}$$



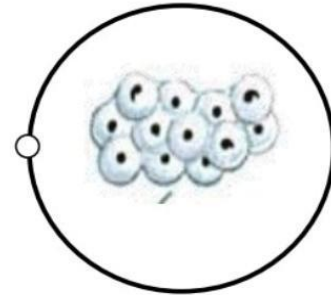
تخم مرغ های عید را رنگ آمیزی کن



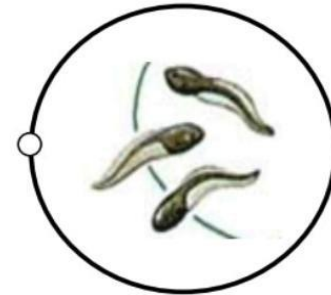
چرخه زندگی قورباغه

بعد از مطالعه به تصویر مرتبط وصل کنید.

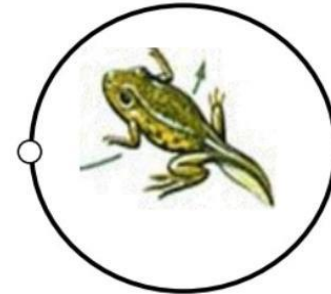
هنگامی که نوزاد سر از تخم بیرون می آورد، می تواند شنا کند و از دم بلندش استفاده نماید. قورباغه از طریق آبشش تنفس می کند.



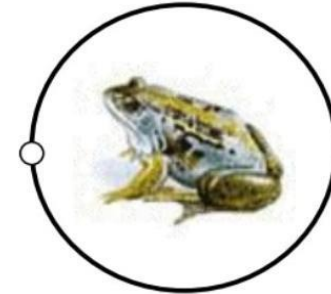
به تدریج دم او کوتاه تر می شود تا این که قورباغه جوان شبیه والدین بالغش می شود.



با رشد نوزاد قورباغه، ابتدا پاهای عقبی و سپس پاهای جلویی او شروع به رشد می کنند. شش ها بزرگ می شوند و قورباغه جوان با نگه داشتن سر خود در بالای آب، می تواند تنفس کند.



اکثر دوزیستان در آب تخم گذاری می کنند. به تخم های قورباغه اشپل گفته می شود که به وسیله لایه ضخیمی از ماده ژلاتینی از حیوانات شکارچی محافظت می شوند و در درون آن، نوزاد قورباغه رشد می کند.



درباره ایران بخوانید...

و جدول را کامل کنید.

ایران کشوری در جنوب غربی آسیا و در منطقه خاورمیانه با ۱۰۶۴۸۰۱۹۵

کیلومتر مربع وسعت دارای جمعیتی حدود ۷۷۰۰۰۰۰۰ نفر است.

پایتخت و بزرگ‌ترین شهر آن تهران است.

ایران از شمال با جمهوری آذربایجان، ارمنستان و ترکمنستان،

از شرق با افغانستان و پاکستان و از غرب با ترکیه و عراق همسایه است

همچنین از شمال به دریای خزر و از جنوب به خلیج فارس و

دریای عمان محدود می‌شود که از مناطق مهم استخراج نفت

و گاز در جهان هستند.

زبان رسمی در ایران در عصر حاضر زبان فارسی است.

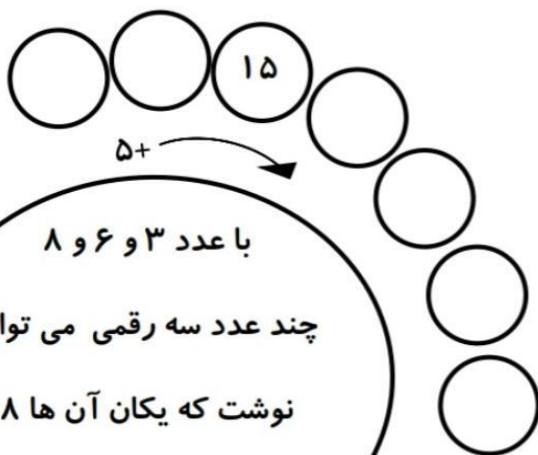
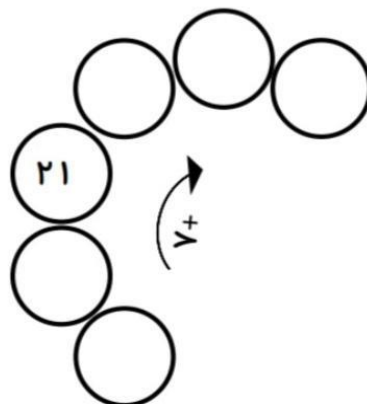
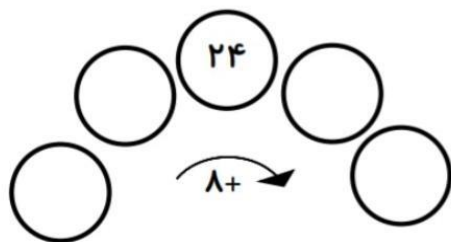
دریاهای مرزی	همسایه شمالی	همسایه غربی	همسایه شرقی	پایتخت	زبان	مساحت	جمعیت

به رقم بنویس.

..... صد و هشتاد و سه
..... صد و سی و هفت
..... دویست و پنج
..... هشتاد و یک
..... صد و نوزده

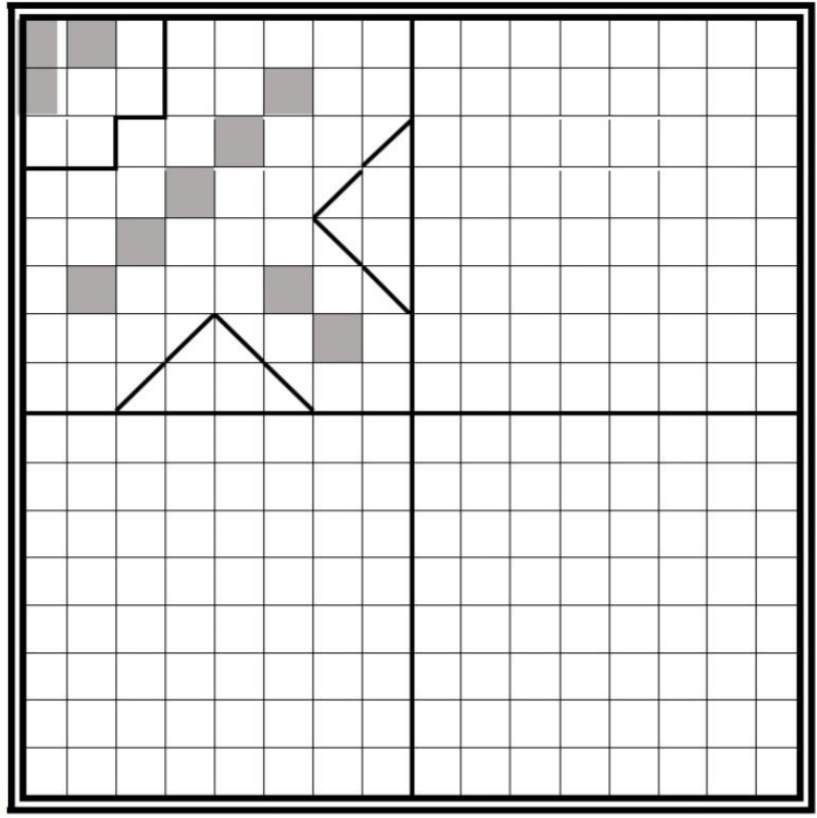

به حروف بنویس.

۱۰۰ _____
۶۹ _____
۱۷۸ _____
۲۶۵ _____
۱۹۱ _____
۷۸ _____



با عدد ۳ و ۶ و ۸
چند عدد سه رقمی می توان
نوشت که یکان آن ها ۸
و صدگان آن ۶ باشد؟



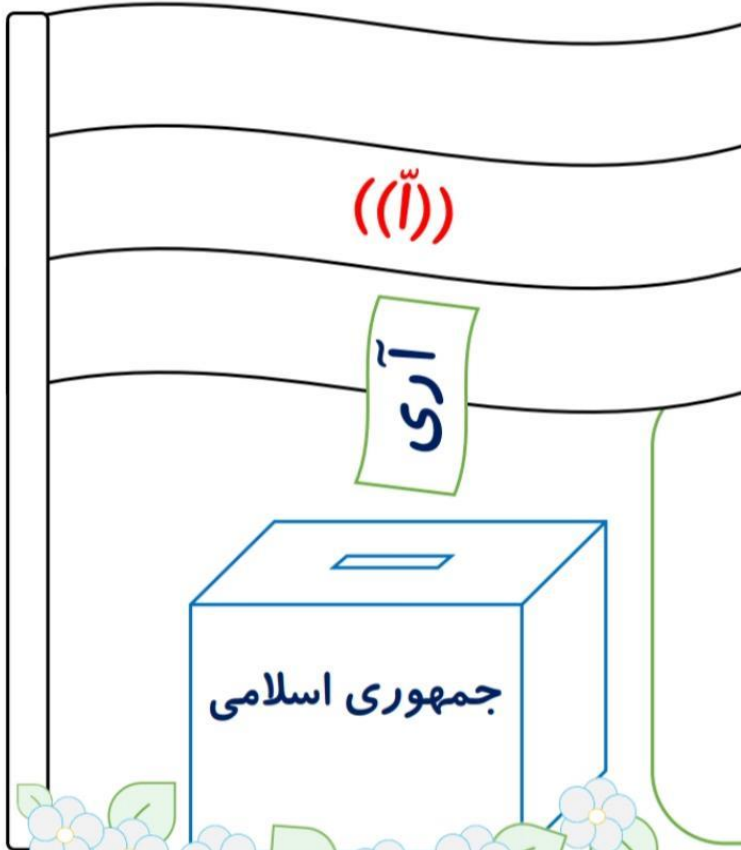


(با جملات زیبا ادامه بده).


وقتی بهار از راه می رسد

۱۲ فروردین ماه روز
جمهوری اسلامی ایران

آیا می دانید چرا؟



یک جمله ی زیبا در باره ی ایران بنویس.



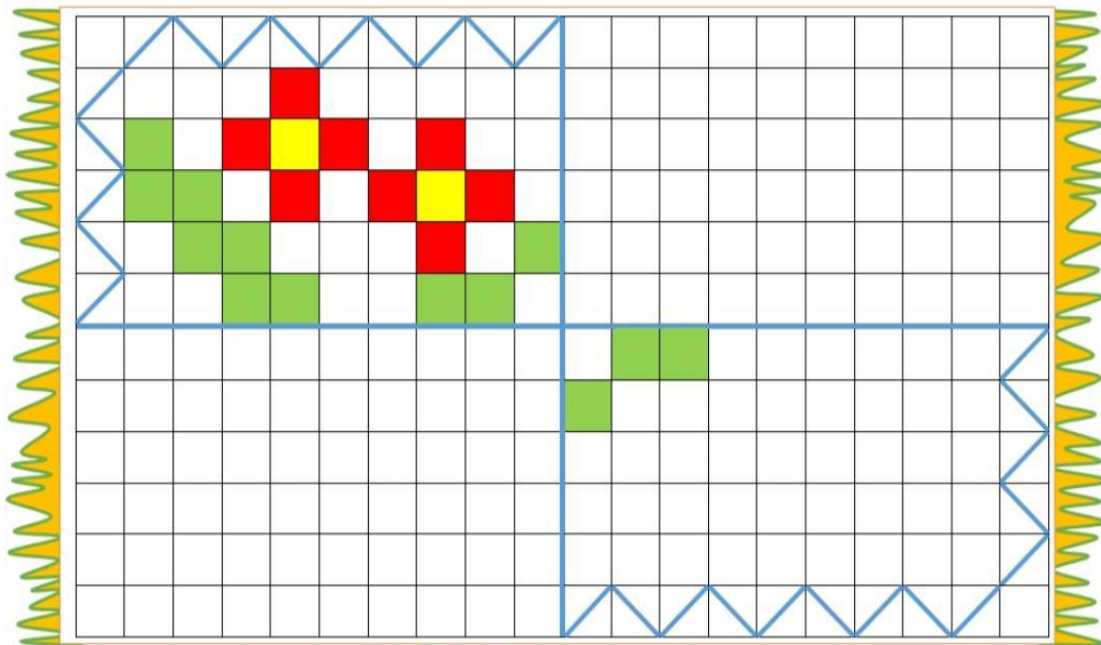
نام چند شهید انقلاب را بنویسید.

یک دیکته بنویس.

A large, empty rectangular box with a brown border, containing ten horizontal lines for writing. The box is surrounded by cartoon children holding its edges. The children are smiling and appear to be holding the box together. The box is centered on the page and is the main focus of the worksheet.



با استفاده از قرینه فرش زیر را کامل کن.



جدول سودوکو را حل کن

۶	۲	۹	۸	۳		۱	۴	۵
۷	۸	۱	۴	۹		۳	۲	۶
۴	۳		۲	۶		۸	۹	۷
۵	۷	۳	۶	۴	۲	۹	۸	۱
۹	۴		۳	۱	۸	۷	۵	۲
۸	۱	۲		۵	۹			۴
۲	۹				۴			۳
۱	۶	۸		۲	۳	۴		۹
۵	۴	۹	۷	۶	۲	۱		۸




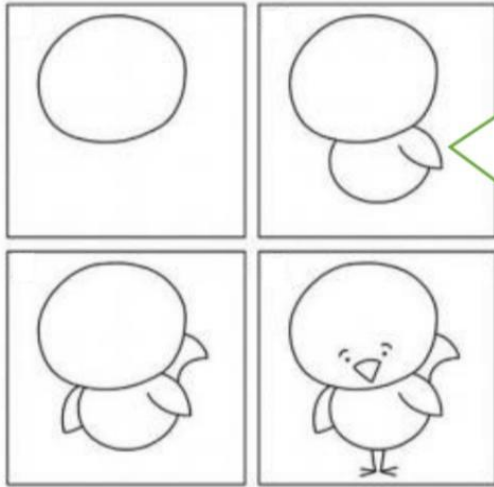
عدد های ساعت را به

لاتین بنویس. ساعت را نشان بده.



۵:۴۵

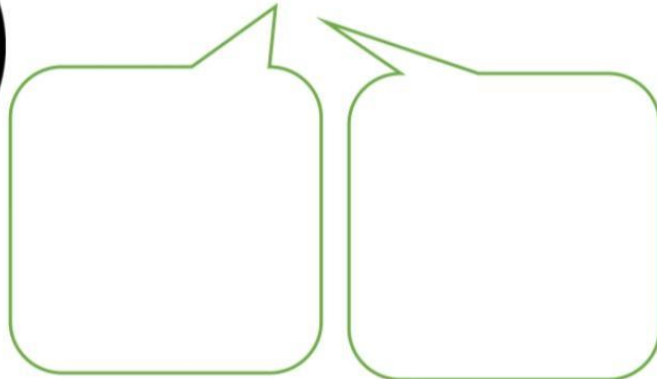
با توجه به مراحل مقابل یک گنجشک بکشید و رنگ آمیزی کنید.



خشم



چهره های مربوط به ناراحتی و شادی را شما بکشید.




تعجب



جانوران دریایی دیگری که می شناسی نقاشی کن.



به ترتیب شماره گذاری کنید و رنگ بزنید.

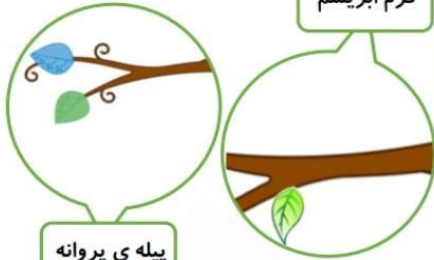


با وسیله هایی چون تراشیده مداد (بال پروانه) پنبه (پيله) و منجق (بدن کرم) نقاشی سمت چپ را کامل کنید و داستان آن را ادامه دهید.

پروانه


من یک کرم شکمو بودم که همیشه در حال خوردن برگ های درخت بودم یک روز که خیلی خسته بودم سعی کردم تن خود را با یک لحاف ابریشمی سفید بپوشانم و برای مدت زیادی در آن خوابیدم وقتی بیدار شدم با زحمت زیادی لحاف ابریشمی را کنار زدم و با تعجب دیدم که

کرم ابریشم



پيله ی پروانه

سعی کنید نیمه دیگر هر تصویر را شبیه آن بکشید.



مانند نمونه ادامه بده

داستان تصویر را بنویسد.

چهار فصل درخت



Blank writing area with horizontal lines for a story.

تابلوه‌های کنار جاده فاصله تا تابلوی بعدی را نشان می‌دهد. با توجه به آنها مسیر حرکت پدر تا خانه را روی محور نشان دهید و

برای آن یک عبارت جمع بنویسید. پدر چقدر تا خانه فاصله دارد؟

عبارت



هر کدام از موارد زیر چه تاثیری بر محیط زیست ما می‌گذارد.

کاشت درخت




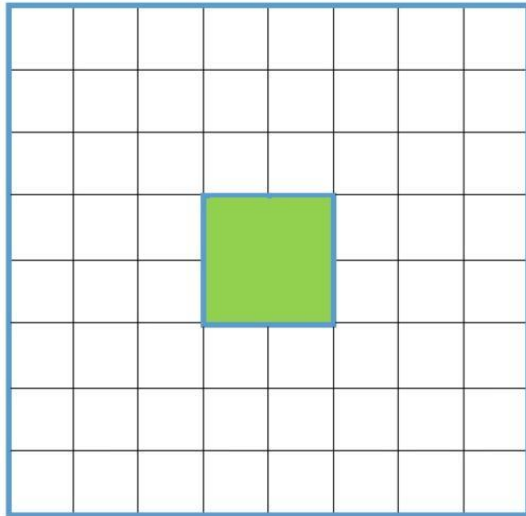
قطع درخت



میلاذ ساعت ۸:۳۰ بیدار شد تا گل ها را در باغچه بکارد. مادر به او گفت یک ساعت دیگر به خانه برگردد تا تکالیفش را انجام دهد. ساعت رفت و برگشت میلاذ را روی ساعت نشان بده.




با حرکت شکل های سمت راست ، جدول را پر کنید.




تخم مرغ های زیر را برای عید رنگ آمیزی کن.













۶	۲	۹	۸	۳		۱	۴	۵
۷	۸	۱	۴	۹		۳	۲	۶
۴	۳		۲	۶		۸	۹	۷
۵	۷	۳	۶	۴	۲	۹	۸	۱
۹	۴		۳	۱	۸	۷	۵	۲
۸	۱	۲		۵	۹			۴
۲	۹				۴			۳
۱	۶	۸		۲	۳	۴		۹
	۵	۴	۹	۷	۶	۲	۱	۸

از روی یک پارچه ی گلدار گلها را ببرید و گلدان زیر را کامل کنید.




عدد های زیر را به ترتیب از کوچکتر به بزرگتر بنویس.

۳۰۱ ۳۷۶ ۳۵۲ ۳۲۰ ۳۰۹

پاسخ هر سوال را با یک رنگ روی ساعت نشان دهید.



۵ دقیقه بعد از ۱۱ : ۵۵ چه زمانی است ؟

۱۰ دقیقه قبل از ۳ : ۲۰ چه زمانی است ؟

۲۰ دقیقه بعد از ۷ : ۱۵ چه زمانی است ؟

۱۵ دقیقه بعد از ۲ : ۴۵ چه زمانی است ؟



خانه های مربوط به روستا و
عشایر و شهر را
نقاشی کنید.



شیروانی



چادر

آپارتمان



دیگته


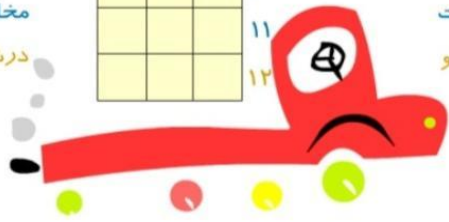


Handwriting practice area with five horizontal lines.



بازی با کلمات

- | | | |
|--------------------------------|----|------------------------------|
| ۱- پر نمک | ۱ | راه. |
| ۲- دانه ای شبیه عدس | ۲ | غذای شب. |
| ۳- سلطان جنگل | ۳ | در صورت مردان است. |
| ۴- در مسابقه به قهرمان می دهند | ۴ | تمیز. |
| ۵- وسیله دفاع زنبور | ۵ | نام شانزدهمین حرف حروف فارسی |
| ۶- نزدیک نیست | ۶ | آبی که به سوی دریا می رود |
| ۷- قشنگ و زیبا | ۷ | جزیره ای ایرانی. |
| ۸- مخالف شب | ۸ | قدرت و نیرو. |
| ۹- بزرگترین حیوان خشکی | ۹ | جایش در حمام است. |
| ۱۰- جانور خوش خط و خال | ۱۰ | اهلی. |
| ۱۱- سرد نیست | ۱۱ | مخالف زندگی. |
| ۱۲- مخالف رو | ۱۲ | درشت نیست. |



برای جدول سوال مناسب بنویس.



۱	ت	ا	ر
۲	ی	ا	س
۳	ک	و	د
۴	د	ع	ا

_____ ۱

_____ ۲

_____ ۳

_____ ۴



$$\begin{array}{r} 710 \\ + 136 \\ \hline \end{array}$$

$$\begin{array}{r} 882 \\ - 128 \\ \hline \end{array}$$

$$\begin{array}{r} 415 \\ + 108 \\ \hline \end{array}$$

$$\begin{array}{r} 905 \\ - 300 \\ \hline \end{array}$$

$$\begin{array}{r} 942 \\ - 306 \\ \hline \end{array}$$

$$\begin{array}{r} 614 \\ + 99 \\ \hline \end{array}$$

$$\begin{array}{r} 630 \\ - 521 \\ \hline \end{array}$$

$$\begin{array}{r} 471 \\ + 339 \\ \hline \end{array}$$


پاسخ بده



تصاویر مرتبط را وصل کن



با اضافه کردن دایره رسم را ادامه دهید و رنگ آمیزی کنید.



چه زمان هایی صلوات می فرستیم؟ فکر می کنید چرا؟

از برکات صلوات در زندگی از بزرگتر ها بپرسید و بنویسید.



خلاصه داستان حضرت موسی را بنویسید.





رفتن به طبیعت

آداب و رسوم سیزده بدر



روز طبیعت

چه کنیم در روز طبیعت ،
طبیعت هم شاد باشد.

روز جهانی کتاب کودکی

خلاصه کتابی را که خوانده ای در اینجا بنویس.

موضوع:

نام نویسنده:

نام کتاب:

چکیده ی کتاب



با توجه به شعر تصویر زیر را کامل کنید.

شعر هفت سین

سجد و سیب و سماق	چند تخم مرغ رنگی
با سمنو و سکه	چه سفره ی قشنگی
با یک قرآن زیبا	کنار تنگ ماهی
همراهش سیر و سبزه	چیده شده چه عالی
منتظر مهمونیم	به فکر هم می مونیم
با خوشحالی ، همیشه	شعر های شاد می خونیم



مانند نمونه
ادامه بده



سفرنامه

خلاصه ای از مسافرت هایی که داشته اید را در این صفحه به صورت متن، تصویر، عکس ارائه دهید.
(یادتان باشد جاده هم بخشی از سفر است.)



در این صفحه یکی از زیباترین عکس هایی که از طبیعت بهاری گرفته ای قرار بده (اگر عکس دوست نداشتی یک نقاشی زیبا بکش و در وصف آن یکی دو خط بنویس.)



در این قسمت بهترین بازی ها، سرگرمی هایی که در جمع خانواده و دوستانت داشته ای را بیان کنید.



کتابی را که در ایام تعطیلات خواندید را در این برگ معرفی کنید.

نام کتاب :

نام نویسنده :

ناشر :

موضوع :

*خلاصه ای از کتاب یا بهترین قسمت هایی که برایتان جالب بوده است را بنویسید.



اگر تمایل داشتید می توانید گزارش را به کلاس
به صورت شفاهی ارائه دهید.

مهمترین اخباری که شنیدم و اتفاقاتی که رخ داد (لطفا اصل و منبع خبر) را بنویسید.

در ایران :



در جهان :

فعالیت های هنری

✚ در ایام نوروز با رعایت پروتکل های بهداشتی به طبیعت بروید، یک فیلم کوتاه از زندگی در کرونا و تفاوت های آن با زندگی بدون کرونا تهیه کنید . (می توانید فیلم مستند بسازید.)

✚ می دانم که امسال دلتان برای مدرسه تنگ شده است و دوست دارید به مدرسه برگردید. پس برای اشتیاق و دلتنگی های خود در قالب (دوست دارم به مدرسه برگردم) یک فیلم کوتاه، نقاشی یا یک متنی زیبا بنویسید و آن متن را بخوانید، آهنگ بنوازید یا

نکات مهم :

- فیلم : حداکثر ۷ دقیقه با حجم کمتر از 30MG
- عکس یا نقاشی: عکس با فرمت JPEG یا PNG
- فایل صوتی حداکثر ۷ دقیقه بل فرمت MP3 ، WAR



دویدم و دویدم
به سبزه ها رسیدم
رو فرش سبزه سبزه
گل قشنگی دیدم
کنار گل نشستم
نفس زنان و خسته
دیدم که روی آن گل
شاپرکی نشسته
سفید و سرخ و آبی
دو بال رنگارنگ داشت
لطیف تر از پر گل
دو شاخک قشنگ داشت

خسته نباشی گلم