




مدرسه غیردولتی سورنا

نوروزی

بهار ۱۴۰۰

بیکه



بهار ۱۴۰۰



آموزگار: فریبا امامی



## تقویم فروردین ماه ۱۴۰۰

نام نام خانوادگی:

فروردین											
2021 Mar / Apr			۱۴۰۰			۱۳۳۲ شعبان - رمضان					
جمعه	پنجشنبه	چهارشنبه	سه شنبه	دوشنبه	یکشنبه	یکشنبه	دوشنبه	سه شنبه	چهارشنبه	پنجشنبه	جمعه
۶	۵	۴	۳	۲	۱	۲۱	۲۰	۱۹	۱۸	۱۷	۱۶
۱۳	۱۲	۱۱	۱۰	۹	۸	۲۸	۲۷	۲۶	۲۵	۲۴	۲۳
۲۰	۱۹	۱۸	۱۷	۱۶	۱۵	۲۴	۲۳	۲۲	۲۱	۲۰	۱۹
۲۷	۲۶	۲۵	۲۴	۲۳	۲۲	۳۱	۳۰	۲۹	۲۸	۲۷	۲۶

۱- آغاز نوروز (تعطیل) ۲- مید نوروز (تعطیل) ۳- آغاز محرمات فتح الحسین ۳- مید نوروز (تعطیل) ۴- مید نوروز (تعطیل) ۵- ولادت علی (ع) و یوز جان (۹ ولادت حضرت قائم (عج) و یوز جوانی مستضعفین (تعطیل) ۱۲- یوز جمهوری اسلامی ایران (تعطیل) ۱۳- یوز طبیعت (تعطیل) ۱۸- یوز سلامتی ۲۰- یوز ملی فناوری و صنعتی - یوز هنر انقلاب اسلامی (سالروز شهادت سید مرتضی آوین) ۲۱- شهادت امیر سهرورد علی بن مهزیار شمرانی - سالروز تأسیس تیلا سگنر انقلاب اسلامی ۲۵- یوز بزرگداشت مطار نیسانوروز ۲۳- یوز خندانوشنگ (۲۹- یوز ایران- جمهوری اسلامی ایران و یوزی یسار

۱- سال نو مبارک ۹- ولادت حضرت قائم عجل الله تعالی فرجه (۲۵۵ه ق)

۱۲- روز جمهوری اسلامی ایران ۱۳- روز طبیعت ۱۸- روز سلامتی

۲۰- روز ملی فناوری هسته ای

## سال نو مبارک

آموزگار: فریبا امامی





یک برنامه ی ساده برای مرور درس های خود در ایام تعطیلات عید نوروز بنویسید.



قرآن	علوم	مطالعات	هدیه	ریاضی	فارسی	
						روز اول
						روز دوم
						روز سوم
						روز چهارم
						روز پنجم
						روز ششم
						روز هفتم
						روز هشتم
						روز نهم
						روز دهم
						روز یازدهم
						روز دوازدهم
						روز سیزدهم




آموزگار: فریبا امامی





حیرت‌انگیز  
 حلال حلال  
 محو اسرار و  
 لذت‌های  
 یاقوت محبوب  
 بهار



## دانش آموزان عزیز

درود بر شما و خانواده ی بزرگوارتان !

عید نوروز سال ۱۴۰۰ از راه می رسد، خداوند در نوروز، سرسبزی را به جنگل، شکوفه ها را به درختان، شادابی را به گل ها و مهر و دوستی را به انسان ها هدیه می کند.

اگر کمی دقت کنید، می بینید که این روزها همه جهان هستی، لبخند بر لب دارند. شکوفه ی گل ها می خندند، پرنده ها نغمه خوان شده اند، کوه ها و جنگل ها پر از سبزه و چشمه های جوشان شده اند و سختی و سرمای زمستان جای خود را به گرمای شادی و نشاط داده است.

پس بیایید در این بهار، ماهم با دوستانمان با مهر و محبت سخن بگویم، با پدر و مادر خود به نیکی رفتار کنیم، دوستانمان را با نام های زیبا صدا بزنیم، رفتارهای زشت مانند دروغ و تهمت و مسخره کردن را دور بریزیم تا بتوانیم لبخند را در لب های همه ببینیم.





۱- آیات زیر را با دقت بخوانید و حروف ناخوانای آن را مشخص کنید.

الف) الَّذِي خَلَقَ الْمَوْتَ وَالْحَيَوَةَ لِيَبْلُوَنَّكُمْ أَيُّكُمْ أَحْسَنُ عَمَلًا

۲- حضرت علی(ع) درباره ی آموختن کتاب خدا چه فرموده اند؟

۳- با توجه به آیه ی شریفه ی ( و ارزقنا و انت خیر الرازقین ) بهترین روزی دهنده کیست؟

۴- پیامبر اکرم(ص) در مورد کسی که قرآن سخنش و مسجد خانه اش باشد، چه فرموده است؟

۵- در حالت وقف صدای «ی» را ..... می خوانی. مانند : مُصَلِّيٌ ← .....

۶- ترجمه ی پیام قرآنی آیه ی ( اِنَّ الْحَسَنَاتِ يُذْهِبْنَ السَّيِّئَاتِ ) را بنویسید.

۷- برخی از آداب خواندن قرآن را بنویسید.

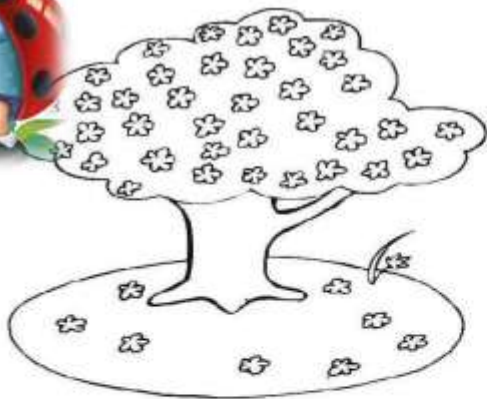
۸- آیه ی ۳۰ تا ۳۷ سوره ی آل عمران به چه داستانی اشاره دارد؟

نام پیامبرانی که در این صفحه آمده است را پیدا کن و بنویس.

۹- معنای صحیح کلمات را علامت بزن.

- الف) عید:  بندگان  بنده  
ب) یوم:  روز  شب  
ج) لا تَفْرَقُوا:  پراکنده شوید  پراکنده نشوید  
د) اِنَّ:  اگر  قطعاً





۱- به عدد و حروف بنویسید.

شش صد و سی و هفت هزار و پنجاه و یک =

نهصد و نود و نه هزار و نه =

هشتاد هزار و دو =

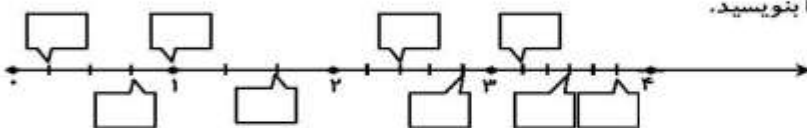
..... = ۳۵۰۰۰۰

..... = ۲۶۵۷۵۹

۲- به نظر شما کدام یک از اندام های بدن مهم تر از همه است ؟



۳- کسر مربوط به هر نقطه را بنویسید.



۴- یک مسئله بنویس که جواب آن  $۲۹ + ۶۹۶$  باشد.





۵- در مورد یک بیماری که مربوط به دستگاه گوارش است: تحقیق کنید. علل ایجاد آن و نحوه ی جلوگیری آن را بنویسید.

A large rectangular box with a rounded top and a dotted line border, containing several horizontal lines for writing. To the left of the box is a simple line drawing of a stethoscope.

۶- تقسیم های زیر را کامل کنید. درستی آن ها را امتحان کنید.

$$\begin{array}{r} 794 \\ \hline 4 \end{array}$$

$$\begin{array}{r} 4531 \\ \hline 21 \end{array}$$

$$\begin{array}{r} 6752 \\ \hline 71 \end{array}$$

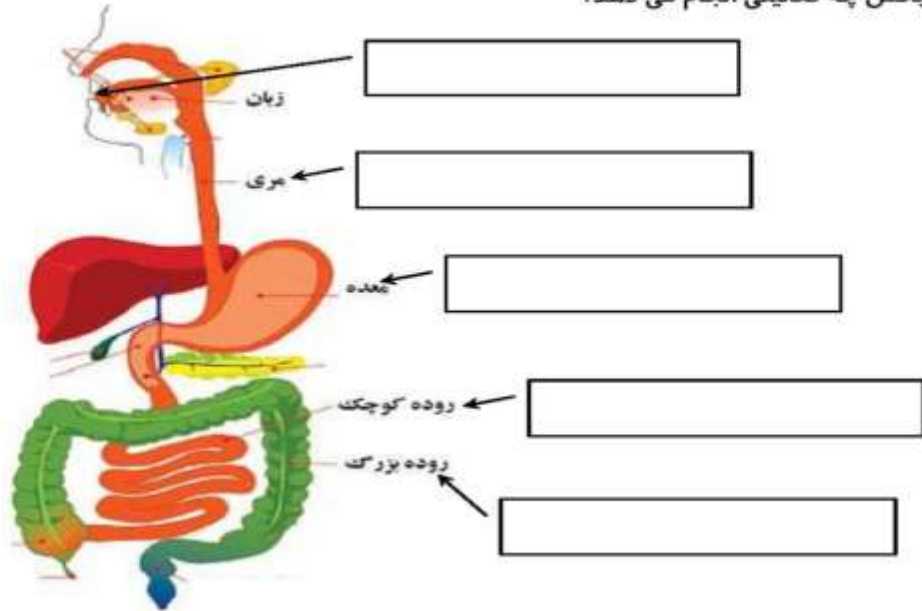


آموزگار: فریبا امامی





۷- هر بخش چه فعالیت‌هایی انجام می‌دهد؟



۸- خلاصه‌ی داستان کودکی حضرت موسی (ع) را بنویسید. چه نتیجه‌ای از این داستان می‌گیرید؟



.....

.....

.....

.....

.....

۹- تعداد روزهای تعطیل دانش‌آموزان در نوروز ۹۶ چند دقیقه است؟

..... :

..... :

..... :

زیر مسئله اول:

زیر مسئله دوم:


زیر مسئله سوم:










۱۰- با استفاده از راهنمای زیر ، نقشه ی اطراف خانه ی خود را بکشید.




 : خانه ویلایی :

 : آپارتمان :

 : خیابان :

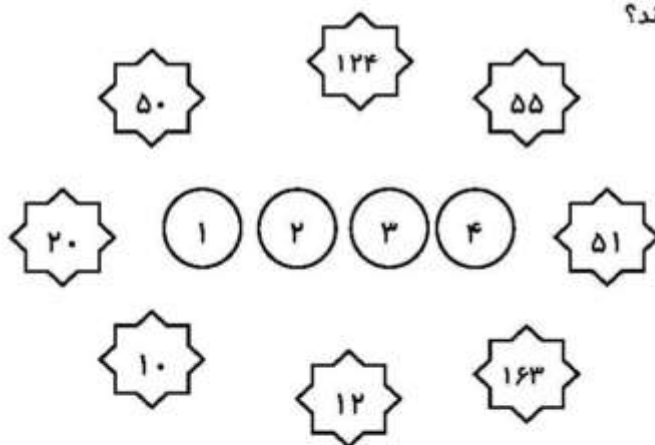
 : کوچه :

 : فضای سبز :

 : میدان :

 : مغازه :

۱۱- هر کدام به چه عددی بخش پذیرند؟



۱۲- حاصل ضرب های زیر را به دست آورید.

$$\begin{array}{r} ۶۹۳ \\ \times ۴۰۵ \\ \hline \end{array}$$

$$\begin{array}{r} ۵۴۹۷۵ \\ \times ۳۴۲ \\ \hline \end{array}$$





داستانی که خودم نوشتم

• اگر قصه ای ، داستانی ، نمایشنامه ای نوشته اید در این قسمت بنویسید ✓

نام قصه یا داستان:





۱۳- با تقریب خواسته شده بنویسید.

۷۹	با تقریب دهگان	_____	با تقریب دهگان	_____
۲۵		_____		۷۶۵۴
۴۶		_____		۹۳۰۰
				_____
				_____



۱۴- حل کنید.

۲۰ تخم مرغ در سبد گذاشته ایم.


ربع این تخم مرغ ها را قرمز کرده ایم. یعنی چند تا ؟

از باقی مانده خمس آن ها را زرد کرده ایم. یعنی چند تا ؟

از باقی تخم مرغ ها نصف آن ها را آبی کرده ایم. یعنی چند تا ؟

ثلث باقی مانده را هم سبز کردیم یعنی چند تا ؟

چند تخم مرغ، سفید مانده است ؟



۱۵- دخترم در مهمانی های نوروزی خود، چه نوع مخلوط هایی را نوش جان کردی ؟

آن را در دسته بندی های زیر قرار بده و بنویس.

مخلوط همگن ( محلول )

گاز در مایع : .....

جامد در مایع : .....

مایع در مایع : .....



مخلوط ( ناهمگن )

جامد در جامد : .....


جامد در مایع : .....

مایع در مایع : .....





۱۶- با خط کش ۲۰ و ۳۰ و ۵۰ سانتی متری ، چه طول هایی می توان درست کرد؟ محاسبه کنید و شکل آن ها را رسم کنید.



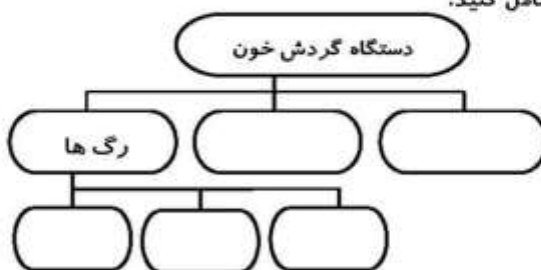
۱۷- اگر طول هر کدام از نوارهای زیر ۱ متر باشد ، مقدار کسر خواسته شده را روی آنها رنگ کن .

\_\_\_\_\_  
سانتی متر ..... =  $\frac{3}{4}$  متر

\_\_\_\_\_  
سانتی متر ..... =  $\frac{5}{8}$  متر

\_\_\_\_\_  
سانتی متر ..... =  $\frac{1}{9}$  متر

۱۸- نمودار زیر را کامل کنید.



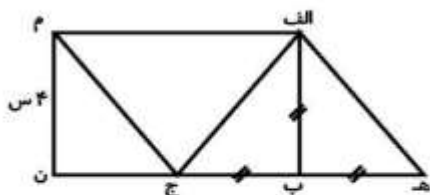


۱۹- طول پاره خط (الف م) را مشخص کنید.

راهنمایی: مثلث های (الف ه ب) و (الف ب ج) متساوی الساقین هستند.

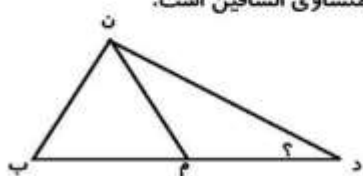
مثلث های (الف ه ج) و (الف ج م) برابر هستند

چهار ضلعی (الف ب ن م) مستطیل است.



۲۰- در شکل زیر مثلث (ن م ب) متساوی الاضلاع و مثلث (د م ن) متساوی الساقین است.

اندازه ی زاویه ی (د) چند درجه است؟



۲۱- حاصل جمع و تفریق های زیر را هم به صورت کسری و هم به صورت اعشاری به دست آورید.

$$\frac{4}{2} - \frac{3}{5} = \text{کسری}$$

$$\frac{8}{5} + \frac{3}{2} = \text{کسری}$$

$$\frac{4}{2} - \frac{3}{5} = \text{اعشاری}$$

$$\frac{8}{5} + \frac{3}{2} = \text{اعشاری}$$

۲۲- حاصل جمع و تفریق های زیر را به صورت اعشاری به دست آورید.

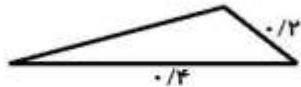
$$8 \frac{2}{5} + 1 \frac{1}{6} - 7 \frac{1}{3} - 0 \frac{1}{3} =$$

$$9 \frac{1}{8} - 3 \frac{1}{4} - 4 \frac{1}{6} + 3 \frac{1}{3} =$$





۲۳- محیط یک مثلث یک متر است، اگر اندازه ی دو ضلع آن  $0/2$  و  $0/4$  متر باشد، اندازه ی ضلع سوم چقدر است ؟



۲۴- هر سیاره ی منظومه شمسی را به ویژگی آن رسم کنید.

دورترین	<input type="radio"/>	تیر
کوچک ترین	<input type="radio"/>	ناهید
بزرگ ترین	<input type="radio"/>	نپتون
پر نورترین		

- اورانوس
- بهرام
- برجیس



۲۵- نقشه ی ایران را نقاشی کن و در آن قسمت های زیر را نشان بده .

۱. رشته کوه های مهم و قله های مهم آن ها
۲. دریا های شمال و جنوب ایران
۳. جلگه ای مهم و پهناور در ایران
۴. دشت های معروف ایران
۵. استان های کناره ی دریای خزر و نام مراکز آن ها
۶. پایتخت ایران

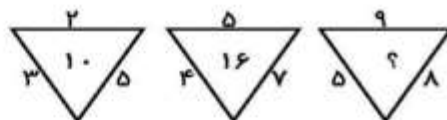




- ۲۶- با سه لامپ ، مقداری سیم و باتری یک مدار ساختیم .  
 به صورتی که ۲ لامپ ۱ و ۲ با هم متوالی و با لامپ سوم موازی هستند .  
 شکل این مدار را رسم کنید ، و به سئوالات زیر پاسخ دهید .
۱. اگر لامپ ۱ بسوزد چه اتفاقی می افتد ؟
  ۲. اگر لامپ ۳ بسوزد چه اتفاقی می افتد ؟

۲۷- در هر الگو به جای ؟ چه عددی قرار می گیرد ؟

۳	۴	۶
۹	۸	۱۲
۳	۲	؟



۲۸- به روش بدست آوردن حاصل عبارت های زیر دقت کنید .

$$۴۷ \times ۹ = ۴۷ \times (۱۰ - ۱) = (۴۷ \times ۱۰) - (۴۷ \times ۱) = ۴۷۰ - ۴۷ = ۴۲۳$$

$$۴۷ \times ۱۱ = ۴۷ \times (۱۰ + ۱) = (۴۷ \times ۱۰) + (۴۷ \times ۱) = ۴۷۰ + ۴۷ = ۵۱۷$$

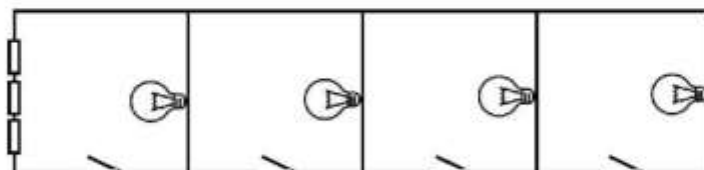
دخترم حاصل  $۵۳ \times ۹$  و  $۶۸ \times ۱۱$  را به روش بالا به دست آورید .





۲۹- جدول زیر را کامل کنید.

چراغ های خاموش	چراغ های روشن	کلید های خاموش	کلید های روشن
	۲ و ۱		
۴			۳ و ۱
		۳ و ۲ و ۱	
			۳ و ۲



اگر بخواهیم این مدار فقط یک کلید داشته باشد و با آن همه ی لامپ ها روشن و خاموش شوند. آیا این امکان پذیر است ؟

کدام کلید را باید نگه داریم ؟ چرا ؟

۳۰- جاهای خالی را کامل کنید.

$$\frac{\square}{318} = \frac{8}{\square} = \frac{3}{2} = \frac{\square}{21} = \frac{\square}{42} = \frac{\square}{15} = \frac{18}{\square} = \frac{22}{\square} = \frac{\square}{36}$$

۳۱- عبارت  $(41 - 27) - 100$  با کدام عبارت ها مساوی است ؟ چرا ؟

الف)  $100 + (41 - 27) =$

ب)  $(100 - 41) - 27 =$

ج)  $100 - (41 + 27) =$

د)  $(100 + 41) - 27 =$

ه)  $100 - 41 + 27 =$







۳۲- قیمت بعضی اجناس یک فروشگاه به شرح زیر است. ( قیمت ها به تومان می باشند)



۵۸۰۰

۱۴۹۵۰

۲۳۷۵۰

۷۳۰۰

۱۲۵۰

۱۷۶۰



۸۴۰

۲۱۰۰

۸۴۰

۱۳۳۶۰

۹۸۸۰

۵۷۰

۵۲۰۰

به سوال های زیر پاسخ دهید .

الف) صدف از این فروشگاه یک سینی ، یک دست قاشق و چنگال ، چهار عدد نمک دان و یک دست لیوان راه راه خریده است. حساب کنید چه مبلغی را باید بپردازد؟

---

---

ب) ابراهیم یک جعبه ابزار و یک شیرجوش و دو عدد قابلمه سایز کوچک و دو قیچی خریده است. ۱۰۰۰۰۰ تومان پرداخت کرده . چقدر باید بیش تر بدهد یا پس بگیرد.

---

---

ج ) خانم شعبانی یک دست فنجان با نعلبکی و یک دست لیوان خال خال و یک دست قاشق و چنگال و یک سینی خرید . او یک چک پول ۵۰ هزار تومانی به فروشنده داد. چه مبلغی را باید بیش تر بدهد یا پس بگیرد.

---

---

ه) اگر شما بخواهید حدود ۶۰ هزار تومان از این فروشگاه خرید کنید . چه می خرید ؟

---

---





۳۳- سامان ۴ اسکناس ۵۰۰۰ تومانی، ۱۵ اسکناس ۲۰۰۰ تومانی، ۶ اسکناس ۵۰۰ تومانی و ۸ سکه ۲۵ تومانی دارد. سامان چه قدر پول دارد؟



۳۴- جرم جعبه چند گرم است.





کتابی که خواندم :

کتابی را که در ایام تعطیلات خواندید را در این برگ معرفی کنید.

نام نویسنده:

نام کتاب:

موضوع:

ناشر:

خلاصه ای از کتاب یا بهترین قسمت هایی که برایتان جالب بوده است را بنویسید\*





## مصاحبه

فرصتی به وجود آورید تا مصاحبه ای با یکی از اعضای خانواده ، خدمتگزاران امنیت و آسایش مردم در شهر یا جاده ها یا یکی از مسئولین محلی ، شخصیت های علمی و .. و هر آنچه مقدور باشد ترتیب دهید، و در ذیل متن مصاحبه را بنویسید . عکس و فایل صوتی هم (می شود ضمیمه نمود



آموزگار: فریبا امامی



برایم خواندند ، یا دیدم یا شنیدم

در این قسمت ، قصه ای را که گوش کرده ای ، یا فیلمی را که از تلویزیون  
یا سینما دیده ای (و یا خاطره ای که برایت تعریف کرده اند (را بنویس و  
در پایان بگو کدام قسمت برایت خیلی جالب بود



آموزگار: فریبا امامی





## خاطرات من از نوروز

در این قسمت خاطرات خود را از نوروز امسال نظیر سال تحویل ، میهمانی ها ، دید و بازدید ، گرفتن عیدی بنویسید

آموزگار: فریبا امامی





سرگرمی هایی که با خانواده و دوستانم داشتم

در این قسمت بهترین بازی ها، سرگرمی هایی که در جمع خانواده و دوستانم داشتم را بیان کنید





دختر خرم اشباه تحریری از من !!! اگر متن غلطاً تحریری و صحیح آن با شما!  
آفتاب شروع به تابیدن می کند. سلام ای نسیم صبح!  
سلام ای آسمان بهاری! درخت سیب که پراز شکوفه شده  
است به آرامی شاخه ای را به سویم دراز می کند: سلام غنچه کوچک  
وزیبا! تولدت مبارک. از صحبت های درخت احساس  
آرامش می کنم و به بدن لطیف و مخیل پوشم نگاه می اندازم.  
حالا گلبرگ های بزرگم که وارد آغوش می فشردند و به ضخامت  
از هم دیگر فاصله می گیرند.  
گل زرگس نگاهش تحسین آمیز می کند و خوشحال می شود.  
خانواده همیشه بوی محبت می دهد.  
نوروز مبارک







امسال عید به مسافرت نمیرم زیرا.....

.....

.....

.....

.....

.....

.....

.....

.....

.....

.....



آموزگار: فریبا امامی



ان تحویل سال ۱۴۰۰ را روی ساعت نشان بده:



رهبر عزیز ما سال ۱۴۰۰ را سال

نامیدند.



آموزگار: فریبا امامی



عکسی که خودم از طبیعت گرفتم

در این صفحه یکی از زیباترین عکس هایی که از طبیعت بهاری گرفته ای قرار  
بده اگر عکس دوست نداشتی یک نقاشی زیبا بکش و در وصف آن یکی دو خط  
بنویس





## قرآن

الف) معنای صحیح کلمات زیر را بنویسید.

رسول : .....	عظیم : .....
عالمین : .....	لا : .....
سمیع : .....	رحیم : .....
قدیر : .....	غفور : .....
آجر : .....	قال : .....
عبد : .....	نبی : .....
ارض : .....	سبع : .....
مُرسلین : .....	حَسَنَات : .....
صراط : .....	خالق : .....
عند : .....	أجل : .....

ب) عبارات قرآنی زیر را بخوانید و ترجمه آن ها را کامل کنید .

۱- اللهُ خَالِقُ كُلِّ شَيْءٍ : ..... هر چیز است.

۲- إِنَّ اللَّهَ غَفُورٌ رَحِيمٌ : قطعاً ..... آمرزنده ..... است.

۳- وَاللَّهُ عِنْدَهُ أَجْرٌ عَظِيمٌ : و ..... او ..... است.

ج) صفحات ۲۰-۲۱-۲۸-۴۰-۵۰-۵۱-۵۷ کتاب درسی را مطالعه بفرمایید

پیامبر (ص) به حضرت علی (ع) سفارش فرمود :

سعی کن در همه حال قرآن بخوانی





از درس و مشق هم غافل نبودم

در این قسمت از انجام برنامه هایی که بیشتر با کتاب های درسی صورت گرفته  
گزارشی بنویسید





## هدیه های آسمانی

۱. اولین مسجدی که توسط پیامبر اسلام (ص) و یارانش ساخته شد، چه نام دارد؟  
الف) مسجد قبا  ب) مسجد الحرام  ج) مسجد النبی  د) مسجد پیامبر
۲. دلیل از شوق زیارت امام ..... به خراسان رفت.  
الف) هفتم  ب) هشتم  ج) نهم  د) دهم
۳. دشمنان اسلام پیامبر و یارانش را چند سال در محاصره نگه داشتند؟  
الف) دو سال  ب) سه سال  ج) چهار سال  د) یک سال
۴. چرا علی بارانی خود را در هوای سرد زمستانی نمی پوشید؟  
الف) از رنگ بارانی خوشش نمی آمد  ب) دوست علی بارانی نداشت   
ج) می خواست مانند دوستش باشد  د) گزینه های ب و ج صحیح است
- هریک از عبارت های سمت راست را کلمه ی مربوط به خود در سمت چپ وصل کنید.
- |                     |               |
|---------------------|---------------|
| وقت تنگ است         | امام جواد (ع) |
| مسجدالنبی           | آسیه          |
| سخت و تمند و بخشنده | مدینه         |
| همسر فرعون          | نماز آیات     |
| گرفتن خورشید        | تیمم          |
| امام رضا (ع)        | مأمون         |

آن چیست که اگر به زمین بیفتد نمی شکند، در آب هم تر نمی شود؟





## ریاضی

۱. بازدید کنندگان می توانند با قایق از ساعت ۱۰ صبح تا ۵ بعد از ظهر از غار علیصدر ~~محمدرضا~~ دیدن کنند. گنجایش هر قایق ۲۰ نفر است. هر ۱۰ دقیقه یکبار، یک قایق وارد غار می شود، در یک روز شلوغ تابستانی حد اکثر چند نفر می توانند از غار دیدن کنند؟
- الف) ۸۰۰ نفر      ب) ۷۰۰ نفر      ج) ۸۴۰ نفر      د) ۶۰۰ نفر
۲. اگر برای هر بار تقسیم سلولی ۱۵ دقیقه وقت لازم باشد، چه مدت طول می کشد تا از یک سلول ۱۶ سلول تولید شود؟
- الف) ۳۰ دقیقه      ب) ۴۵ دقیقه      ج) ۶۰ دقیقه      د) ۷۵ دقیقه
۳. اگر  $\frac{3}{5}$  باری داخل جعبه باشد و ۱۶ سانتی متر از طول مار بیرون قرار گرفته باشد، طول کل مار چند سانتی متر است؟
- الف) ۴۰ سانتی متر      ب) ۵۰ سانتی متر      ج) ۵ سانتی متر      د) ۶۰ سانتی متر
۴. کوچک ترین عددی که با رقم های ۲ و ۶ و ۷ و ۵ می توان نوشت و همچنین بر ۵ بخش پذیر باشد کدام است؟
- الف) ۲۶۷۰۵      ب) ۲۰۶۷۵      ج) ۲۶۷۵۰      د) ۲۰۷۶۵
۵. عدد ۱۸ در چه عددی ضرب کنیم تا حاصل برابر مجموع دو عدد ۷۲ و ۵۴ باشد؟
- الف) ۶      ب) ۷      ج) ۸      د) ۹
۶. اختلاف حاصل ضرب  $۱۸ \times ۲۷$  با  $۱۷ \times ۳۰۸$  چند متر است؟
- الف) ۷۴۵۰      ب) ۴۷۵۰      ج) ۴۵۴۰      د) ۴۵۷۰
۷. آیدین ۲۸۰ تومان داشت،  $\frac{1}{7}$  آن را به دوستش داد، خواهرش هم از ۲۰۰ تومانی که داشت خمسش را خرج کرد حالا آن ها چند تومان دارند؟
- الف) ۴۰۰      ب) ۴۴۰      ج) ۸۰      د) ۸۵





## اجتماعی

جدول زیر را کامل کنید.

				۱
				۲
				۳
				۴
				۵
				۶
				۷
				۸
				۹

۱. از به هم پیوستن جویبارها به وجود می آید.
  ۲. مردم پشت سر امام جماعت در صف های منظم رو به چه می ایستند؟
  ۳. پولی که برای خرید کالاهای مورد نیاز خرج می شود ، چیست ؟
  ۴. تمدن ایلام در کنار این رود پدید آمده است.
  ۵. شهری که در تمام ماه های سال دائم در آن باران می بارد .
  ۶. از تولیدات مشترک بین روستائیان و عشایر چیست ؟
  ۷. موزه ی ایران ،باستان در کدام شهر قرار دارد؟
  ۸. از قله های رشته کوه البرز است.
  ۹. به کمک این وسیله می توانیم مکان های مختلف را روی نقشه تشخیص دهیم .
- در سوالات زیر پاسخ را انتخاب کنید .

۱. رشته کوه های زاگرس در کدام طرف قرار دارد ؟

- الف)مغرب       ب)جنوب غربی       ج)شرق       د)الف و ب

۲. در دامنه های زاگرس کدام مورد وجود دارد ؟

- الف)پسته های وحشی       ب)درختان نخل  
 ج)جنگل های افرا       د)جنگل های وسیع







## سفرنامه

خلاصه ای از مسافرت هایی که داشته اید را در این صفحه به صورت متن، تصویر،  
عکس ارائه دهید یادتان باشد جاده هم بخشی از سفر است



بهترین ها سال خوبی داشته باشین

۳۳

آموزگار: فریبا امامی

