

۱۴۰۰

نوروز مبارک

Happy Nowruz

ProfileGram.IR پروفایل گرام



قرآن	هدیه	مطالعات	علوم	فارسی	ریاضی	
						2 فروردین
						3 فروردین
						4 فروردین
						5 فروردین
						6 فروردین
						7 فروردین
						8 فروردین
						9 فروردین
						10 فروردین
						11 فروردین
						12 فروردین

1- قلب یک کودک در هر دقیقه 115 بار میزند. قلب او در 15 دقیقه چند بار میزند؟



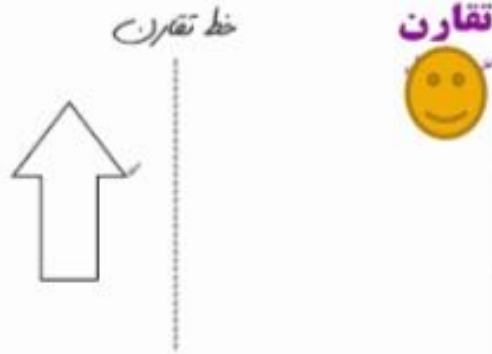
2- این اعمال را اول به ریاضی بنویس. سپس انجام بده و جواب را به دست اور دخترم.

الف) دو هزارم ضربدر صد

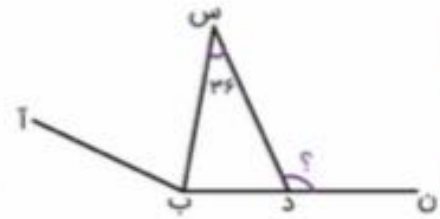
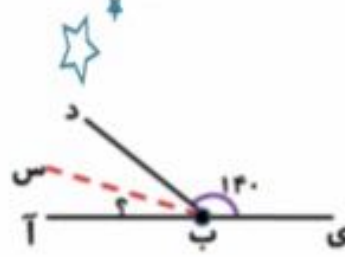
ب) چهار و سی و شش صد به اضافه ی نه و سی و دو صد

ج) دو دهم ضربدر دو هزار

3- دختر گلم تقارن را به دست بیاور.



4- زاویه های خواسته شده را پیدا کن.



5- شماره کد پستی منزلتون چنده؟ این عدد را به عدد و حروف بنویس و در جدول ارزش مکانی قرار دهید.

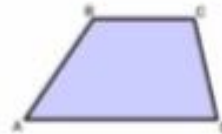
6- نسبت قد به وزنتون چنده؟ این نسبت رو بنویس و ساده کن دخترم.



7- در روز های تعطیلی، فرض کنید ساعت هفت و ده دقیقه و پنجاه ثانیه از خواب بیدار شدید و بعد ناهار ساعت سه و بیست دقیقه و بیست ثانیه دوباره خوابیدید. چند ساعت بیدار بودید؟



8- مساحت دوزنقه ای با قاعده های 10 و 8 و ارتفاع 6 را آبه دست اورید.



9- یک قوطی کبریت به طول 10 و عرض 5 و ارتفاع 3 داریم. حجم آن چند است؟

10- جدول زیر را پر کنید.

ویژگی شکل	لوزی	مربع	مستطیل	متوازی الاضلاع
ضلع های روبرو باهم موازی اند	✓			
ضلع های روبرو باهم مساوی اند				
قطرها یکدیگر را نصف می کنند				
قطرها ، زاویه ها را نصف می کنند				

11- علی 1000 تومان و معصومه 2000 تومان پول دارند. با توجه به اینکه قیمت عروسک 2400 تومان و قیمت خرس 5000 تومان و قیمت ماشین 4000 تومان است و مغازه روی تمام قیمت ها 30 درصد تخفیف زده است و از مبلغ کم میشود، کدامیک می توانند خرس بخرند؟

12- محیط شکل زیر با شعاع 3 را با فرض عدد پی برابر 3 حساب کنید.



13- کامل کنید.

گزینه	درست	نادرست
الف - رقم ۴ از عدد ۱۲/۳۴۵ در مرتبه‌ی صدم قرار دارد.		
ب - محیط مربعی به ضلع $1/27$ متر برابر است با $5/08$ متر.		
ج - واحد مناسب برای اندازه‌گیری حجم آب دریاچه ارومیه، دسی‌متر مکعب است.		

14- برای شکل زیر یک ضرب کسری بنویسید.



15- اعداد مخلوط را به کسر تبدیل کنید.

الف) $\frac{4}{3}$	ب) $\frac{15}{8}$
--------------------	-------------------

16- یک لوزی با قطر های 7 و 3 بکشید و مساحتش را به دست آورید.

17- یک زاویه 60 درجه رسم کنید و نیمسازش را به دست آورید و رسم کنید.

18- جدول تناسب زیر را حل کنید.

	۷			۵	
مجموع	۱۰	۵۰	اختلاف	۱۵	۶۰

19- جاهای خالی را پر کنید.

الف) 120 سانتی متر ----- متر است.

ب) 2000 گرم ----- کیلوگرم است.

20- در دو کیلو شیرینی، 5 کیلو شکر لازم است. در 10 کیلو شیرینی چند کیلو شکر لازم است؟

21- الگوی زیر را ادامه دهید.



22- مجموع سن خانواده ی خود را در جدول ارزش مکانی قرار دهید.

23- حسن کچل در کنار رودخانه ای قرار دارد. برای اینکه از رودخانه عبور کند پلی به طول 20 متر باید بسازد تا به آن سمت رودخانه به ارایشگاه برود. عرض پل چند متر باید باشد؟

24- چگونه در یک پراید 32 نفر جا شوند؟


25- یک روستا، 7 مرد دارد و هر مرد 7 زن دارد. هر زن 7 پسر دارد. جمعیت روستا چند نفر است؟

26- حجم تخت خواب اتاق خود را به دست آورید.



27- از یک دایره به شعاع 5 سانتی متر، چند خط عبور میکند؟

28- نسبت تعداد دایره ها به مثلث ها چند است؟



29- نسبت تعداد شکل های آبی به کل شکل چقدر است؟

30- نسبت تعداد چهار ضلعی ها به سه ضلعی ها چند است؟

31- چند درصد شک دایره است؟

32- ضرب 5 ضربدر یک دوم را روی محور نشان دهید.

33- سه چهارم دانش آموزان یک مدرسه دخترانه در مسابقه شرکت کردند. جمعیت کل 200 نفر است. چند درصد احتمال دارد رضا شرکت کرده باشد؟

34- حساب کنید از روز 2 فروردین تا 13 فروردین چند درصد این دوران را در منزل بودید؟

35- نسبت سن مادر به پدرتان را بنویسید و آنرا ساده کنید.

36- عدد 136548565 را با تقریب 100000 بنویسید.

37- انجام دهید.

$$3\frac{4}{5} + 4\frac{1}{3} =$$

$$2\frac{2}{7} + 3\frac{5}{6} =$$

$$6\frac{1}{2} + 4\frac{2}{3} =$$

$$2\frac{4}{7} + 3\frac{2}{3} =$$

38- در مورد لقمان تحقیق کنید و چند خط در مورد آن بنویسید.



39- با توجه به تفاوت زندگی انسانها در نقاط مختلف کشور، سه نوع خانه بکشید.



40- مفرد حکایات و عناصر و نکات را بنویسید.

41- جدول را پر کنید.

نکات	تأسی	عرد	قصه‌ها	ر	غیب	خصلت	ناعت و ناز
حسن							

42- متضاد بنویسید.

سر به فلک کشیده زمره ضعف تنبذست

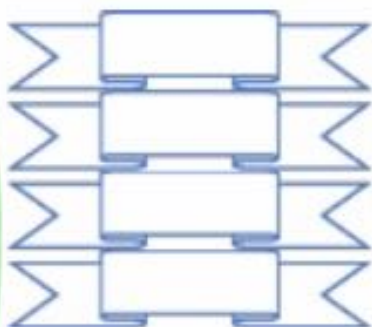
43- معنی کلماتی که زیرشان خط کشیده بنویسید.

الف) دویمت حل بود که کورش، سلسله هخامنشی را در ایران بنیان نهاده بود

بها وقتی که اسکندر آهنگ ایران کرد

بها آفتابه تازه ترکی شنب را کتر زده بود که ...

تا اسکندر که تا آن زمان در هیچ جا مانی این گونه در برابر سپاه عظیم خود ندیده بود غرق اندوه شد



44- امسال عید به مسافرت میروم زیرا----- (یک بند بنویسید)

45- در مورد یکی از دوازده امام عزیزمان تحقیق کنید و یک کلیپ آماده کنید و مطالبی که تحقیق کردید برای مادرتان توضیح دهید.

46- سفره ی هفت سین با سلیقه بچینید و در کنار سفره، عکستان را ارسال کنید.



47- چرا سفره هفت سین میچینیم؟ چه مزیتی دارد؟

48- من یک گزارشگرم

یک روز از تعطیلات عید را به گردشگری قزوین بروید و نتیجه را در قالب یک گزارش بیان کنید.



49- خاطره نویسی

یکی از موضوعات را انتخاب کنید و خاطره ای در مورد آن بنویسید.

تعطیلات عید و تفریح مجازی، قشنگترین روز مدرسه

50- یک پیام قرآنی مطابق با مفهوم شعر بنویسید.

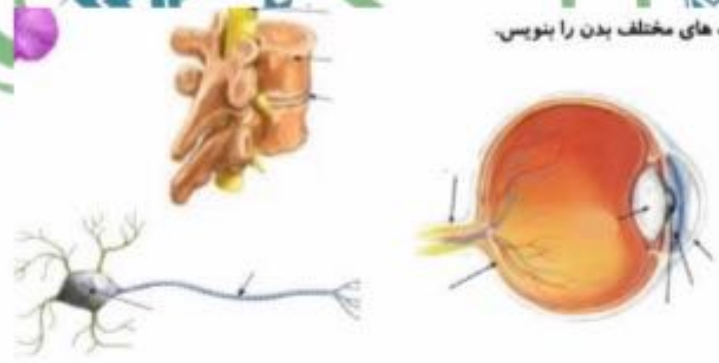
چو قرآن بخوانند دیگر خموش به ایات قرآن فرا دار گوش

51- در هر کدام از چه ابزاری برای آسان تر شدن استفاده می شود؟ توضیح دهید.



52- قسمت های مشخص شده را نام گذاری کنید.

قسمت های مختلف بدن را بنویس.



53- کامل کنید.




54- به نظر شما کدامیک از حواس از همه مهم تر است؟ چرا؟

55- چند مورد از همکاری و مشورت در خانه خودتان نام ببر دخترم.

56- یکی از کشور های همسایه ی ایران را انتخاب کن و در مورد وضع انسانی و صنایع و اقتصادی تحقیق کن و نتیجه را بنویس.

57- محاسن تلاوت آیت الکرسی چیست؟



58- از یکی از زیبایی های طبیعت نقاشی بکش.

59- یکی از وسایل خانه که شکل دایره است انتخاب کن و محیطش را به دست آور.

60- اخبار جوانه هارا ببین و دو تا از موضوعات علمی را بنویس.



کتابی که خواندم:

کتابی را که در ایام تعطیلات خواندید را در این برگ معرفی کنید.

نام نویسنده:

نام کتاب:

موضوع:

ناشر:

خلاصه ای از کتاب یا بهترین قسمت هایی که برایتان جالب بوده است را بنویسید.



مصاحبه

فرصتی به وجود آورد تا مصاحبه ای با یکی از اعضای خانواده ، خدمتگزاران امنیت و آسایش مردم در شهر یا جاده ها یا یکی از مسئولین محلی ، شخصیت های علمی و ... و هر آنچه مقهور باشد ترتیب دهید، و در ذیل متن مصاحبه را بنویسید (عکس و فایل صوتی هم می شود ضمیمه نمود)





برایم خواندند ، یا دیدم یا شنیدم

در این قسمت ، قصه ای را که گوش کرده ای ، یا فیلمی را که از تلویزیون یا سینما دیده ای (و یا خاطره ای که برایت تعریف کرده اند) را بنویس و در پایان بگو کدام قسمت برایت خیلی جالب بود





خاطرات من از نوروز

در این قسمت خاطرات خود را از نوروز امسال نظیر سال تحویل ، میهمانی ها ، دید و بازدید ، گرفتن عیدی ، شرکت در جشن بنویسید



سرگرمی هایی که با خانواده و دوستانم داشتم

در این قسمت بهترین بازی ها، سرگرمی هایی که در جمع خانواده و دوستانم داشتمه ای را بیان کنید.



عکسی که خودم از طبیعت گرفتم

در این صفحه یکی از زیباترین عکس هایی که از طبیعت بهتری گرفته ای قرار بده (اگر
عکس دوست نداشتی یک نقاشی زیبا بکش و در وصف آن یکی دو خط بنویس



از درس و مشق هم غافل نبودم

در این قسمت از انجام برنامه هایی که بیشتر با کتاب های درسی صورت گرفته گزارشی
بنویسید.



سفرنامه

خلاصه ای از مسافرت هایی که داشته اید را در این صفحه به صورت متن، تصویر، عکس ارائه دهید.
(یادتان باشد جاده هم بخشی از سفر است)



بهترین ها سال خوبی داشته باشید