




مدرسه غیردولتی سورنا

نوروزی

فرشته های ششمی

یکم



سارنغمه باریک



بهار ۱۴۰۰





تقویم فروردین ماه ۱۴۰۰

نام خانوادگی:

فروردین						
۱۳۹۹			۱۴۰۰			
شنبه	یکشنبه	دو شنبه	سه شنبه	چهارشنبه	پنجشنبه	جمعه
۲۱	۲۲	۲۳	۲۴	۲۵	۲۶	۲۷
۱	۲	۳	۴	۵	۶	۷
۸	۹	۱۰	۱۱	۱۲	۱۳	۱۴
۱۵	۱۶	۱۷	۱۸	۱۹	۲۰	۲۱
۲۲	۲۳	۲۴	۲۵	۲۶	۲۷	۲۸
۲۹	۳۰	۳۱				

۱-۴ تیر (تعطیل)، ۵-۶ تیر (تعطیل)، ۷ تیر (تعطیل)، ۸ تیر (تعطیل)، ۹ تیر (تعطیل)، ۱۰ تیر (تعطیل)، ۱۱ تیر (تعطیل)، ۱۲ تیر (تعطیل)، ۱۳ تیر (تعطیل)، ۱۴ تیر (تعطیل)، ۱۵ تیر (تعطیل)، ۱۶ تیر (تعطیل)، ۱۷ تیر (تعطیل)، ۱۸ تیر (تعطیل)، ۱۹ تیر (تعطیل)، ۲۰ تیر (تعطیل)، ۲۱ تیر (تعطیل)، ۲۲ تیر (تعطیل)، ۲۳ تیر (تعطیل)، ۲۴ تیر (تعطیل)، ۲۵ تیر (تعطیل)، ۲۶ تیر (تعطیل)، ۲۷ تیر (تعطیل)، ۲۸ تیر (تعطیل)، ۲۹ تیر (تعطیل)، ۳۰ تیر (تعطیل)، ۳۱ تیر (تعطیل).

۱- سال نو مبارک ۹- ولادت حضرت قائم عجل الله تعالی فرجه (۲۵۵ه ق)

۱۲- روز جمهوری اسلامی ایران ۱۳- روز طبیعت ۱۸- روز سلامتی

۲۰- روز ملی فناوری هسته ای

سال نو مبارک





M

یک برنامه ی ساده برای مرور درس های خود در ایام تعطیلات عید نوروز بنویسید.



قرآن	علوم	مطالعات	هدیه	ریاضی	فارسی	
						روز اول
						روز دوم
						روز سوم
						روز چهارم
						روز پنجم
						روز ششم
						روز هفتم
						روز هشتم
						روز نهم
						روز دهم
						روز یازدهم
						روز دوازدهم
						روز سیزدهم





ان تحویل سال ۱۴۰۰ را روی ساعت نشان بدهد:



رهبر عزیز ما سال ۱۴۰۰ را سال

نامیدند.



برای صرفه جویی در آب در هر تصویر یک راهکار بنویسید.

داستان سفر آب به آسمان را از روی تصویر تعریف کنید.

در حفظ مایه ی حیاتمان بکوشیم.
امروز روز جهانی آب است.

وقتی برای گفتار ، زمان مناسبی نمی بینی سخن مگو.

امام علی (ع)

برای تهیه ی یک تن کاغذ، ۱۴۰۰ کیلووات ساعت برق مصرف می شود. دو پیشنهاد مطرح کنید

که با انجام آنها مصرف برق کاهش پیدا کند.



می دانیم که نیش زنبور عسل خاصیت بازی دارد. در حالی که نیش زنبور معمولی دارای خاصیت اسیدی است. با توجه به اینکه باز مخالف اسید است. میتوانی بگویی که چرا مردم معتقدند که روی جای نیش زنبور عسل باید جوش شیرین مالید. در حالی که برای نیش زنبور معمولی باید از سرکه استفاده کرد؟



عروسک نمدی

بشقاب پلاستیکی




با خلاقیت خود برای سفره ی هفت سین یک تنگ ماهی بسازید. تا مجبور نباشید یک ماهی قرمز را در تنگ زندانی کنید. با این کار یک ماهی قرمز در سال جدید نمی میرد.



مقوا یا تخته

برای حرکت دادن ماهی های مصنوعی خود فکر کنید. به نظر شما از چه نیروهایی می توان برای این کار استفاده کرد؟

تخم مرغ های زیر را برای عید رنگ آمیزی کن.



هیچ پشتیبانی اطمینان بخش تر از مشورت نیست.

امام علی (ع)

۱- یک از کشاورزان در باغچه خود چند ردیف لوبیا کاشت . او مشاهده کرد در روز دو شنبه یک گیاه لوبیا ، در روز سه شنبه ۴ گیاه لوبیا و در روز چهارشنبه ۹ گیاه لوبیا جوانه زده بودند . به کشاورز کمک کنید و بگویید در روز یک شنبه چند گیاه لوبیا جوانه می زند ؟



۲- با توجه به الگوی روبرو بگویید شکل دهم چند دایره دارد ؟



۳- با توجه به کارت های روبرو به سئوالات زیر پاسخ دهید ؟

.....

- الف- ۳ عدد چهار رقمی بنویسید که به دو بخش پذیر باشند .
- ب- ۳ عدد سه رقمی بنویسید که به ۶ بخش پذیر باشند .
- ج- ۳ عدد سه رقمی بنویسید که به ۹ بخش پذیر باشند .
- ۴- حاصل عبارت های زیر را بدست آورید ؟

$$11\frac{1}{2} + 3\frac{1}{6} =$$

$$16\frac{4}{9} - 7\frac{1}{4} =$$

$$6 \div \frac{7}{3} =$$

$$\frac{6}{20} \div \frac{12}{8} =$$

$$6\frac{2}{3} \div 5\frac{1}{4} =$$

$$\begin{array}{r} 4/0.25 \\ \times 5/4 \\ \hline \end{array}$$

$$\begin{array}{r} 17/5 \\ - 12/126 \\ \hline \end{array}$$

$$\begin{array}{r} 52/132 \\ + 4/0.12 \\ \hline \end{array}$$

۵- اعداد زیر را از کوچک به بزرگ مرتب کنید ؟

$$\frac{2}{25} \text{ و } \frac{1}{2} \text{ و } \frac{3}{5} \text{ و } \frac{1}{2} \text{ و } \frac{2}{8} \text{ و } 5$$

۶- امین ۵ وزنه ۴ کیلو و ۳۵۰ گرمی را داخل ترازوی آزمایشگاه مدرسه گذاشته است . ترازو چه وزنی را نشان می دهد ؟

۷- کشاورزی نیمی از زمین خود را گندم کاشت ، او نیم دیگر را ۴ قسمت کرد و در یکی از قسمت ها یونجه و در یک قسمت دیگر ذرت کاشته است . او چه کسری از کل زمین را هیچ گیاهی نکاشته است ؟

۸- به کمک رسم شکل حاصل عبارت $3\frac{1}{2} \div \frac{3}{4}$ را بدست آورید ؟

۹- جاهای خالی را با عدد مناسب کامل کنید ؟

$$\frac{2}{3} \times \frac{\square}{\square} = \frac{10}{3}$$

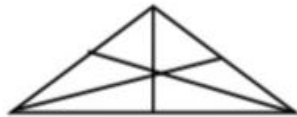
$$\frac{\square}{\square} \times \frac{4}{5} = \frac{2}{5}$$

۱۰- سه کسر بین ۱ و ۲ بنویسید که از $\frac{1}{2}$ بزرگتر باشند ؟
..... و و

سوالات پیشرفته

۱- حاصل عبارت $(\frac{2}{4} \times \frac{4}{6} \times \frac{6}{8} \times \dots \times \frac{96}{98} \times \frac{98}{100})$ را به دست آورید ؟

۲- بزرگ ترین عدد سه رقمی را بنویسید که رقم تکراری نداشته باشد و بر ۱۵ نیز بخش پذیر باشد ؟



۳- در شکل روبه رو چند مثلث وجود دارد ؟ (هوش)

۴- اگر صورت کسری را دو برابر و مخرج آن را نصف کنیم ، در این صورت کسر ما چند برابر می شود ؟

۵- معکوس عدد 0.25 را بنویسید ؟



امسال عيد به مسافرت نميرم زيرا.....

.....

.....

.....

.....

.....

.....

.....

.....

.....

.....

.....



یک حکایت از گلستان سعدی با خط خوش بنویسد.



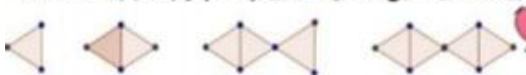
Blank writing area with horizontal lines and decorative floral borders.

تفاوت آتشفشان خاموش و فعال چیست؟



Blank writing area with horizontal lines.

بیست و یکمین شکل دارای چند چوب کبریت است؟



نمود اصطکاک در زندگی ما چه تغییری ایجاد می کند؟



یک مثال بزنید.

Blank writing area with horizontal lines.



در مورد حضرت عبدالعظیم چه می دانید؟

Blank writing area with horizontal lines.

هیچ لباسی زیباتر از سلامتی نیست.

امام علی (ع)

در مورد گروه رفتگر و ویژگی


پوشش گروه
شغلی آن ها
چه می دانید.



Blank writing area with four horizontal lines.

شعاع چرخ زیر تقریباً ۱۰ متر است. در هر بار که چرخ می چرخد زنگوله ۲ بار به صدا در می آید. برای طی مسافت ۱۰۰ متر چند بار زنگوله به صدا در می آید؟

Blank writing area with two horizontal lines.



کدام سوره ها از قرآن سجده ی واجب دارد؟



Five star-shaped boxes for writing the names of the surahs.

طرح های اسلامی روی وسایل سنتی را ببینید و با خلاقیت خود مانند آن بکشید.

Three large rounded rectangular boxes for drawing Islamic patterns.



حق فرزند بر پدر این است که به او قرآن خواندن بیاموزد.

امام علی (ع)

کدام آیه ی زیر، انسانها را از عیب جویی نهی کرده است؟

- الف) وَ لَا تَنَابَزُوا بِالْأَلْقَابِ ب) وَ لَا تَلْمِزُوا أَنْفُسَكُمْ
 ج) بِئْسَ الْإِسْمُ الْفُسُوقُ د) اجْتَنِبُوا كَثِيرًا مِّنَ الظَّنِّ

حاصل عبارت زیر را به دست آورید

$$1 + \frac{1}{1 + \frac{1}{1 + \frac{1}{3}}} = 2 + \frac{1}{3 - \frac{1}{2 - \frac{1}{1 - \frac{1}{3}}}}$$



تصویر زیر را کامل کنید.



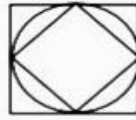
۱۲۷ / ۲۵ ۱۴۳ / ۱۵

اعداد زیر را روی محور به صورت تقریبی نشان دهید.

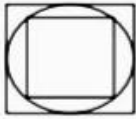


جوینده دانش را، عزت دنیا و رستگاری آخرت است.

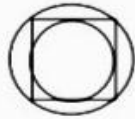
امام علی (ع)



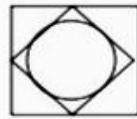
?



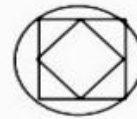
-r




-r



-r



-r



-r



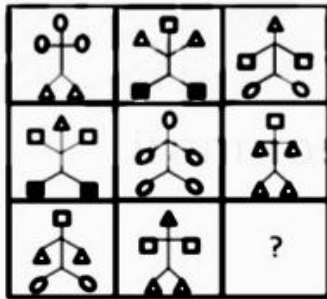
-r



-r



-r



-r




-r



-r



-r



-r



-r



-r



-r

خانه های مربوط به
روستا و عشایر و شهر
را نقاشی کنید.



شیروانی

چادر

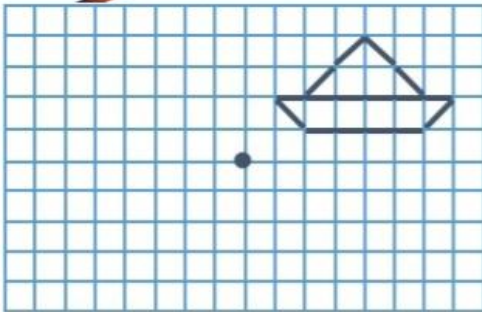
آپارتمان



چهار مورد از پدیده های طبیعی که به واسطه ی حرکت قطعات سنگ کره روی خمیرکره میشود را نام ببرید.
در مورد یکی از آن ها نقاشی بکشید.



قرینه ی مرکزی شکل را بکشید.



الف) $6 - 3 + 8 \times \frac{1}{2} + 13 \div 7 =$

ب) $[(3 \times 4) - 2] + [3 \times 4 - 3] =$

ج) $40 \times 40 \times (0.25) \times (0.25) + 7 \times 7 =$

د) $[8 - 2 \times 3] + [12 \div 2 \times 3] =$

خوشا به حال آن که به بندگان خدا نیکی کند.

امام علی (ع)

سفرنامه

خلاصه ای از مسافرت هایی که داشته اید را در این صفحه به صورت متن، تصویر،

عکس ارائه دهید یادتان باشد جاده هم بخشی از سفر است



سیاره های ناشناخته...



طبق آیه ۲۷ سوره قصص ابتدای این داستان را کامل کنید.

او برای اینکه قدرت و شکوه خود را به مردم نشان بدهد ، بهترین لباس هایش را می پوشید و با نفیس ترین جواهرات خود را می آراست و در میان جمع زیادی از خادمانش با غرور و خودخواهی بین مردم راه می رفت . در جواب مردم که می گفتند «این ثروت را خدا به تو داده پس تو هم از ان انفاق کن» می گفت : « این مالی را که من پیدا کرده ام به خاطر علم و آگاهی خودم بوده است . »

نصیحت های موسی نیز برای هدایت او و پرداخت حق فقیران از مالش اثری بر او نگذاشت تا اینکه فرمان خدا برای عذاب قارون صادر شد .


او با همه دارایی و ثروتش به زمین فرو رفت در حالی که هیچ کس را نداشت تا او را در مقابل عذاب خداوند یاری کند . براستی ماجرای او و همه ی گنج ها و اموالش برای مردم عبرت آموز بود .

نیکویی گفتار در کوتاه بودن آن است.

امام علی (ع)

شرح حال نیما یوشیج را بنویسید.

Blank writing area for the student to write the explanation of the poem.



هر بیت چند جمله دارد؟



الف ای غم تو، شادی ام تو ب مایه ی آزادی ام تو ای وطن

- ۱- سلاح دفاعی زنبور
- ۲- هم معنی صبور
- ۳- علامت بیماری است.
- ۴- تبدیل مایع به گاز
- ۵- خاک مناسب سفالگری
- ۶- یک کلمه ۵ حرفی که آخر آن (ر) باشد.
- ۷- مخالف شروع
- ۸- در محلول آب و نمک حلال کدام است؟
- ۹- هم معنی رطوبت
- ۱۰- هم معنی نادر

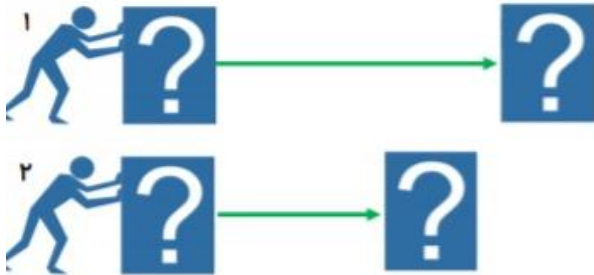
Crossword puzzle grid with clues and starting letters:

- ۱: Down, 5 cells, starting with 'س'
- ۲: Right, 3 cells, starting with 'ص'
- ۳: Right, 3 cells, starting with 'ب'
- ۴: Down, 4 cells, starting with 'م'
- ۵: Right, 3 cells, starting with 'خ'
- ۶: Down, 5 cells, starting with 'ک'
- ۷: Right, 3 cells, starting with 'م'
- ۸: Down, 5 cells, starting with 'ح'
- ۹: Right, 3 cells, starting with 'ر'
- ۱۰: Down, 5 cells, starting with 'ن'

جدول را حل کنید.

امام علی (ع) به احترام پدر و معلمت از جای برخیز ، گرچه فرمان روا باشی.

فردی دو جعبه ی هم اندازه و هم شکل دارد .وقتی او جعبه ی ۱ و سپس ۲ را هل میدهد، آنها روی سطح حرکت می کنند و همان طور که در شکل میبینید پس از طی مسافتی متوقف میشوند.



الف) اگر بخواهیم جعبه ۲ مسافت بیشتری را طی کند چه راه هایی را پیشنهاد می کنید؟
ب) چه چیز می تواند سبب شده باشد که جعبه ۱ بیشتر از جعبه ۲ حرکت کند؟

تفاوت پس لرزه با پیش لرزه چیست؟ مقایسه کنید و بیان کنید کدام یک خطرناکتر است؟



قسمتی از وصیت نامه ی یک شهید را بنویسید.

پیش از تصمیم گیری ، مشورت کن و پیش از عمل بیندیش

امام علی (ع)

با توجه به تصاویر یک موضوع انتخاب کنید و در مورد آن بنویسید.

عمو نوروز حاجی فیروز



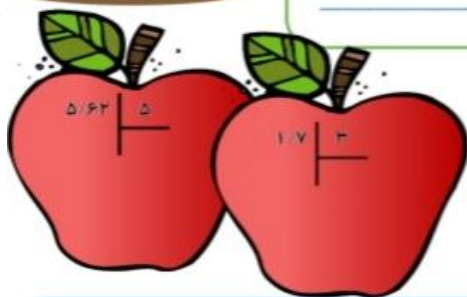
Blank writing area with horizontal lines for text.

با استفاده از ذوق ادبی خود و با توجه به قافیه ها مصرع دوم را بنویسید.



Blank writing area with horizontal lines for text.

باران نم نم
آن شیشه تر شد
آن ابر خندید



حاصل کدام از بقیه بزرگ تر است؟

- الف) $۸/۳۹ \times ۰/۰۰۱$
- ب) $۸/۳۹ \times ۰/۱$
- ج) $۸/۳۹ \div ۰/۰۰۱$
- د) $۸/۳۹ \div ۰/۱$

کار هر روز را در همان روز انجام ده


امام علی (ع)



سرگرمی هایی که با خانواده و دوستانم داشتم

در این قسمت بهترین بازی ها، سرگرمی هایی که در جمع خانواده و دوستانم داشتم را بیان کنید







از درس و مشق هم غافل نبودم

در این قسمت از انجام برنامه هایی که بیشتر با کتاب های درسی صورت گرفته
گزارشی بنویسید





مصاحبه

فرصتی به وجود آورد تا مصاحبه ای با یکی از اعضای خانواده ، خدمتگزاران امنیت و آسایش مردم در شهر یا جاده ها یا یکی از مسئولین محلی ، شخصیت های علمی و .. و هر آنچه مقدور باشد ترتیب دهید، و در ذیل متن مصاحبه را بنویسید (عکس و فایل صوتی هم) می شود ضمیمه نمود



شاهنامه خوانی

شعر زیر را به صورت روان بخوانید و تا ۵ بیت دیگر آن را ادامه دهید. (استفاده از کتاب شاهنامه یا اینترنت)

چو خورشید برزد سر از کوهسار *** بگسترد یاقوت بر جویبار
تهمن همه خواسته گرد کرد *** ببخشید یکسر به مردان مرد
خروش آمد و ناله کرنای *** تهمن برانگیخت لشکر ز جای
نهادند سر سوی افراسیاب *** همه رخ ز کین سیاوش پر آب
پس آگاهی آمد به پرخاشجوی *** که رستم به توران در آورد روی
به پیران چنین گفت کایرانیان *** بدی را بیستند یکسر میان
کنون بوم و بر جمله ویران شود *** به کام دلیران ایران شود
کسی نزد رستم برد آگهی *** ازین کودک شوم بی‌فرهی
هم آنگه بردش به ایران سپاه *** یکی ناسزا بر نهندش کلاه
نوندی برافکن هم اندر زمان *** بر شوم پی‌زاده بدگمان
که با مادر آن هر دو تن را به هم *** بیارد بگوید سخن بیش و کم
نوندی بیامد ببردندشان *** شدند آن دو بیچاره چون بیهشان
به نزدیک افراسیاب آمدند *** پر از درد و تیمار و تاب آمدند

.....

.....

.....

.....

.....



برایم خواندند ، یا دیدم یا شنیدم

در این قسمت ، قصه ای را که گوش کرده ای ، یا فیلمی را که از تلویزیون
یا سینما دیده ای (و یا خاطره ای که برایت تعریف کرده اند (را بنویس و
در پایان بگو کدام قسمت برایت خیلی جالب بود





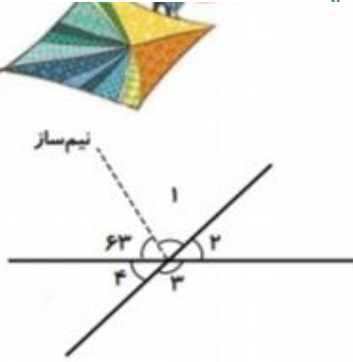
خاطرات من از نوروز

در این قسمت خاطرات خود را از نوروز امسال نظیر سال تحویل ، میهمانی
ها ، دید و بازدید ، گرفتن عیدی بنویسید



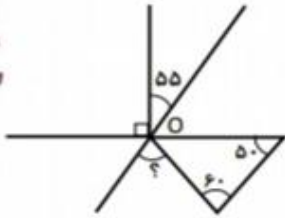
ریاضی

۱- در شکل زیر اندازه‌ی زاویه‌های خواسته شده را به دست آورید.

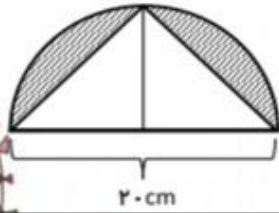


- $\hat{1} =$
- $\hat{2} =$
- $\hat{3} =$
- $\hat{4} =$

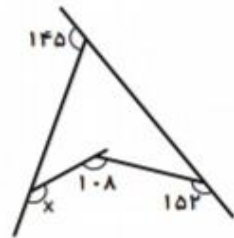
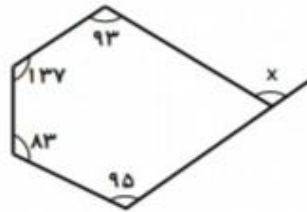
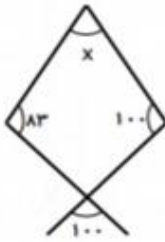
۲- در شکل مقابل، متمم زاویه‌ی مشخص شده چند درجه است؟



۳- مساحت قسمت رنگی چقدر است؟



۴- در هر شکل اندازه‌ی زاویه‌ی x را محاسبه کنید.



روز طبیعت

چه کنیم در روز طبیعت ،
طبیعت هم شاد باشد.

روز جهانی کتاب کودک

خلاصه کتابی را که خوانده ای در اینجا بنویس.

موضوع:

نام نویسنده:

نام کتاب:

چکیده ی کتاب



امام علی (ع)

کتاب ها بوستان های دانشمندان اند.

فعالیت های هنری

در ایام نوروز با رعایت پروتکل های بهداشتی به طبیعت بروید، یک فیلم کوتاه از زندگی در کرونا و تفاوت های آن با زندگی بدون کرونا تهیه کنید . (می توانید فیلم مستند بسازید.)

می دانم که امسال دلنمان برای مدرسه تنگ شده است و دوست دارید به مدرسه برگردید. پس برای اشتیاق و دلننگی های خود در قالب (دوست دارم به مدرسه برگردم) یک فیلم کوتاه، نقاشی یا یک متنی زیبا بنویسید و آن متن را بخوانید، آهنگ بنوازید یا

نکات مهم :

➤ فیلم : حداکثر ۷ دقیقه با حجم کمتر از 30MG

➤ عکس یا نقاشی: عکس با فرمت JPEG یا PNG

➤ فایل صوتی حداکثر ۷ دقیقه بل فرمت MP3 ، WAR

